

23. Растение «Лапа кенгуру» в естественных условиях произрастает ...
А) в Новой Зеландии. Б) в Южной Америке. В) в Австралии.
Г) в Африке. Д) в Юго-Восточной Азии.

24. «Вот бы конфеты росли на деревьях ... – мечтательно произнес Пончик. – Представляешь, Незнайка, приходишь в лес и ешь себе конфет сколько хочешь». – «А такое дерево действительно существует, – улыбнулся Незнайка. – Оно так и называется «Конфетное дерево». А родина этого растения ...»
А) Африка. Б) Южная Америка.
В) Северная Америка. Г) Европа. Д) Азия.

25. Животное с устрашающим названием «Адский вампир» является ...
А) паукообразным. Б) моллюском. В) насекомым.
Г) рептилией. Д) амфибией.

26. В Средние века «Черной смертью» называли болезнь ...
А) малярия. Б) холера. В) тиф. Г) бубонная чума. Д) оспа.

27. Родиной морских свинок является ...
А) Африка. Б) Северная Америка.
В) Южная Америка. Г) Азия.
Д) Австралия.



28. Растение папайя также известно под названием ...
А) дынное дерево. Б) хлебное дерево. В) апельсиновое дерево.
Г) огуречное дерево. Д) земляничное дерево.

29. Веточки и листья чабреца используют не только для приготовления душистого травяного чая, но также и в качестве приправы для многих блюд. А известна эта приправа под названием ...
А) базилик. Б) тимьян. В) имбирь. Г) тмин. Д) бадьян.

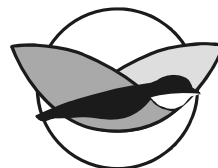
30. Изображенное на рисунке растение относится к семейству ...
А) зонтичных. Б) спаржевых. В) крестоцветных.
Г) пасленовых. Д) буковых.



Конкурс организован и проводится Общественным объединением «Белорусская ассоциация «Конкурс» совместно с Академией последилового образования под эгидой Министерства образования Республики Беларусь.

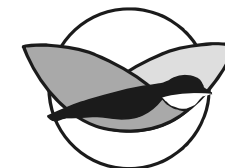
220045, г. Минск, ул. Яна Чечота, 16 тел. (017) 372-36-17, 372-36-23
e-mail: info@bakonkurs.by http://www.bakonkurs.by/

ОО «БА «Конкурс». Заказ 6. Тираж 20400. Минск. 2017 г.



Игра-конкурс по биологии СИНИЦА – 2017

Пятница, 20 января 2017 года



- продолжительность работы над заданием 1 час 15 минут;
- на каждый вопрос имеется только один правильный ответ;
- на старте участник получает авансом 30 баллов;
- каждый правильный ответ оценивается тремя, четырьмя или пятью баллами; количество баллов, которые набирает участник, отвечая на вопрос правильно, определяется сложностью вопроса; сложность вопроса определяется по количеству участников, правильно ответивших на него; 10 наиболее лёгких вопросов оцениваются по 3 балла, 10 наиболее трудных вопросов – по 5 баллов, остальные 10 вопросов – по 4 балла;
- неправильный ответ оценивается четвертью баллов, предусмотренных за данный вопрос, и засчитывается со знаком «минус»;
- за вопрос, оставшийся без ответа, баллы не прибавляются и не вычитаются;
- максимальное количество баллов, в которое оценивается задание конкурса, – 150;
- объём и содержание задания не предполагают его полного выполнения; в задании допускаются вопросы, не входящие в программу обучения;
- участнику запрещается пользоваться словарями, справочниками, учебниками, конспектами, иными письменными или печатными материалами, электронными носителями информации и устройствами связи; недопустимо обмениваться информацией с другими участниками; ручка, черновик, карточка и задание – это всё, что нужно для работы участнику;
- самостоятельная и честная работа над заданием – главное требование организаторов к участнику конкурса; невыполнение этого требования ведёт к дисквалификации участников и учреждений образования;
- после окончания конкурса листок с заданием и черновик участник забирает с собой;
- результаты участников размещаются на сайте <http://www.bakonkurs.by/> через 1–1,5 месяца после проведения конкурса.

Задание для учащихся 7-8 классов

1. Ягоды годжи, очень популярные в Китае и Японии, являются плодами ...
А) барбариса сибирского.
Б) жимолости съедобной.
В) дерезы обыкновенной.
Г) смороды красной.
Д) брусники.



2. Из перечисленных символов, символом Беларуси не является ...
А) аист. Б) василек. В) чертополох. Г) зубр. Д) картофель.

3. На рисунке изображен побег ...
А) однодольного растения. Б) двудольного растения.
В) голосеменного растения. Г) папоротника.
Д) хвоща.



4. Как называют человека, который рано ложится спать и рано просыпается?

- А) ворона. Б) синица. В) тетерев. Г) жаворонок. Д) иволга.

5. Раньше всех в наших лесах зацветает ...

- А) ландыш майский. Б) ветреница дубравная. В) черемша.
Г) одуванчик лекарственный. Д) земляника лесная.

6. Самые крупные плоды у ...

- А) баобаба. Б) секвойи. В) ананаса. Г) тыквы. Д) папайи.

7. Изображенное на рисунке животное является ...

- А) ракообразным.
Б) насекомым с неполным превращением.
В) насекомым с полным превращением.
Г) паукообразным.
Д) губоногим.



8. Плод арахиса – это ...

- А) орех. Б) орешек. В) боб. Г) стручок. Д) коробочка.

9. Морской гребешок является ...

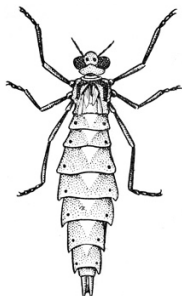
- А) рыбой. Б) паукообразным. В) моллюском.
Г) иглокожим. Д) насекомым.

10. Однажды юный биолог Петя решил подсчитать, сколько карасей живет у него в пруду. Для этого Петя в первый день поймал 100 карасей, пометил их и выпустил назад в пруд. На следующий день Петя поймал 80 карасей, из которых 20 были с отметками. Сколько приблизительно карасей живет в пруду у Пети?

- А) 100. Б) 250. В) 300. Г) 400. Д) 500.

11. Личинка стрекозы называется ...

- А) опарыш. Б) коретра. В) нимфа.
Г) наяда. Д) крыска.



12. Через зигоморфный цветок можно провести ...

- А) одну плоскость симметрии.
Б) две плоскости симметрии.
В) четыре плоскости симметрии.
Г) бесконечное число плоскостей симметрии.
Д) ноль плоскостей симметрии.

13. Среди культурных растений больше всего ядовитых видов из семейства ...

- А) розоцветных. Б) пасленовых. В) сложноцветных.
Г) крестоцветных. Д) зонтичных.

14. Изображенное на рисунке животное называется ...

- А) трицератопс. Б) археоптерикс.
В) птеродактиль. Г) диплодок.
Д) игуанодон.



15. Какая из перечисленных функций не свойственна корням растений?

- А) прикрепление. Б) запасание питательных веществ.
В) размножение. Г) дыхание. Д) фотосинтез.

16. Из перечисленных организмов позвоночным животным не является ...

- А) морской конек. Б) морская корова. В) морская овца.
Г) морская свинья. Д) морской заяц.

17. Изображенное на рисунке животное в естественных условиях обитает в ...

- А) Африке. Б) Южной Америке. В) Азии.
Г) Австралии. Д) Новой Зеландии.



18. Что из перечисленного не является растением?

- А) медвежье ушко. Б) куриный глаз.
В) лисий хвост. Г) кроличья лапка. Д) рыбий хвост.

19. Сколько листьев у вельвичии удивительной?

- А) 1. Б) 2. В) 4. Г) 12. Д) у вельвичии нет листьев.

20. Какое из перечисленных растений не существует?

- А) шоколадное дерево. Б) конфетное дерево.
В) земляничное дерево. Г) леденцовое дерево.
Д) клубничное дерево.

21. Растение, известное под названием «Дерево с тысячью стволов», – это ...

- А) баобаб. Б) баньян. В) секвойя.
Г) бамбук. Д) ива.

22. Аксолотль – это личинка ...

- А) тритона. Б) огненной саламандры.
В) жерлянки. Г) амбистомы.
Д) красноглазой квакши.

